










На каком рисунке знаками отображена погода в тот день, когда был туман? Укажите букву, которой обозначен этот рисунок. Составьте описание погоды в этот день.

А				+24 °С	82%
Б				+15 °С	58%
В				+19 °С	61%

