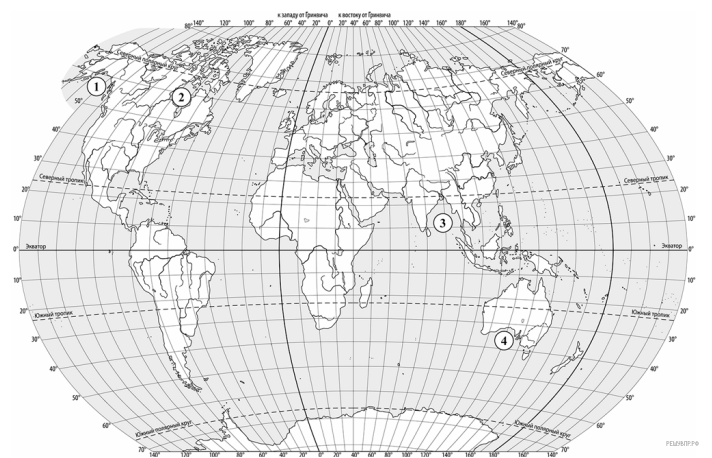
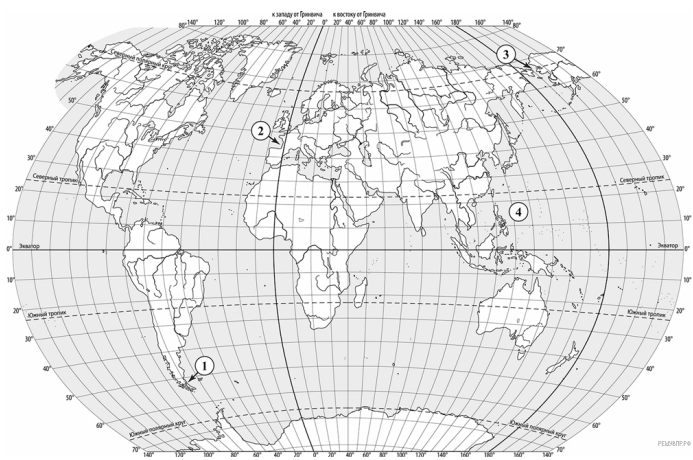


1. Мировой океан занимает около 70% поверхности Земли. Определите, какой цифрой на карте обозначено Аравийское море.



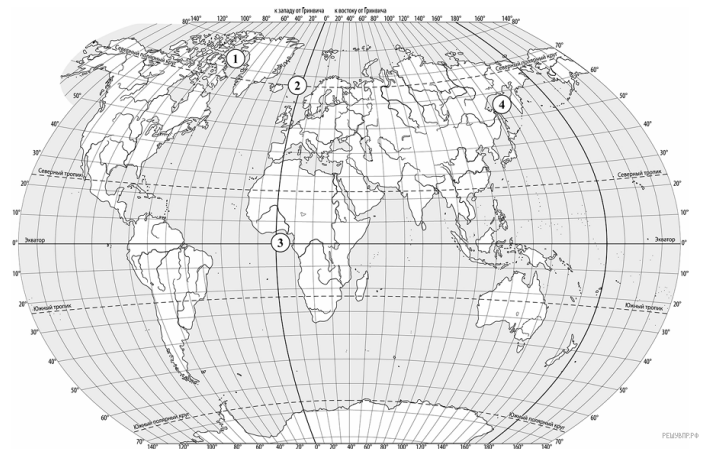
Карта составлена по состоянию на 01.01.2025

2. На карте цифрами обозначены крупнейшие заливы мира. Определите, какой цифрой обозначен Гудзонов залив.



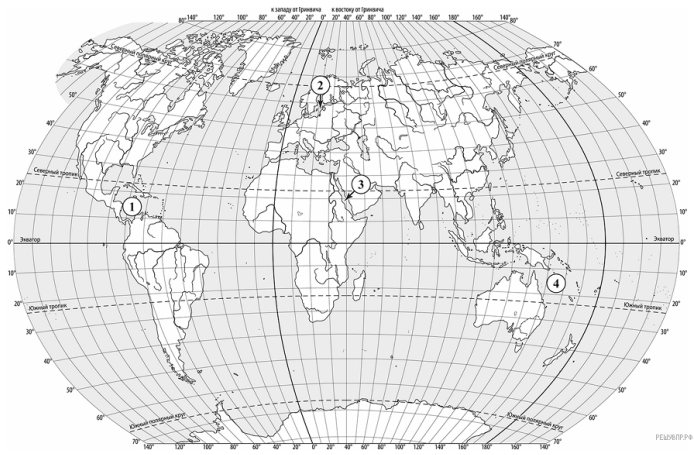
Карта составлена по состоянию на 01.01.2025

3. На карте цифрами обозначены части Мирового океана. Определите, какой цифрой обозначен Берингов пролив.

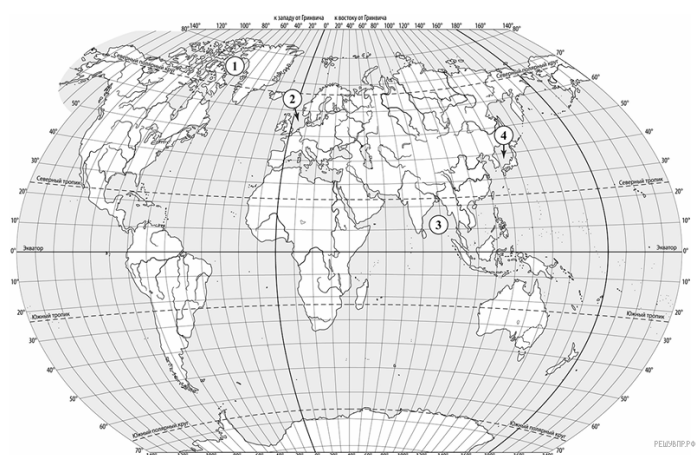


Карта составлена по состоянию на 01.01.2025

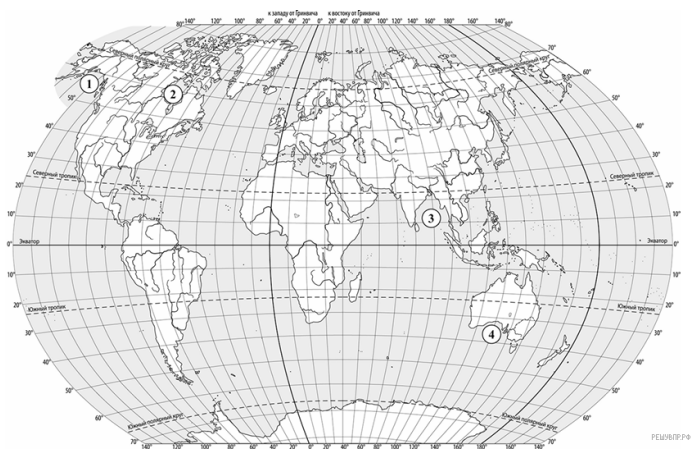
4. На карте цифрами обозначены моря. Определите, какой цифрой обозначено Охотское море.



5. На карте цифрами обозначены моря. Определите, какой цифрой обозначено Красное море.



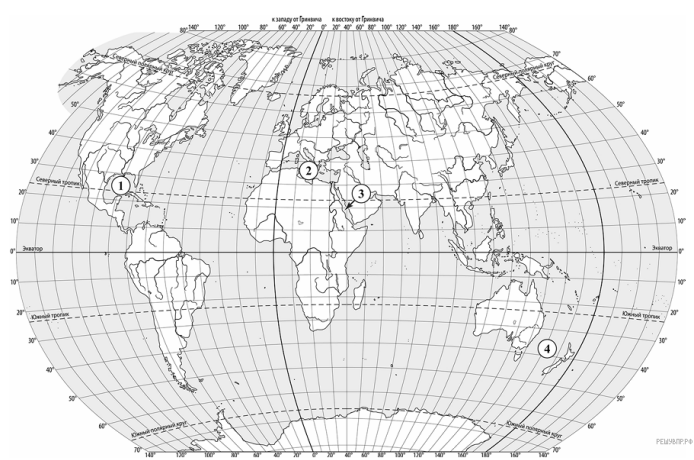
6. На карте цифрами обозначены объекты Мирового океана. Определите, какой цифрой обозначено Северное море.



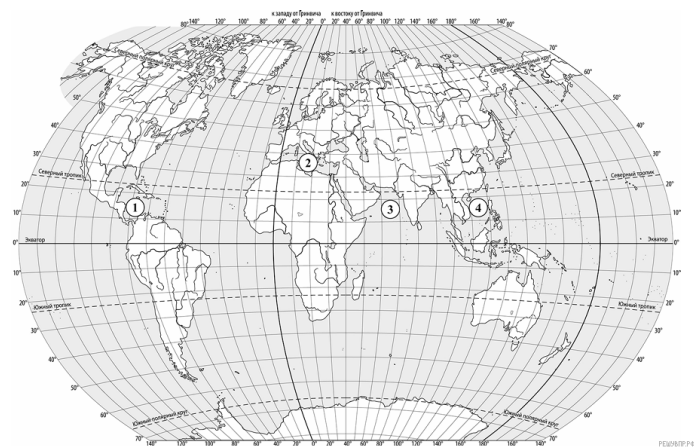
7. На карте цифрами обозначены крупнейшие заливы мира. Определите, какой цифрой обозначен Бенгальский залив.



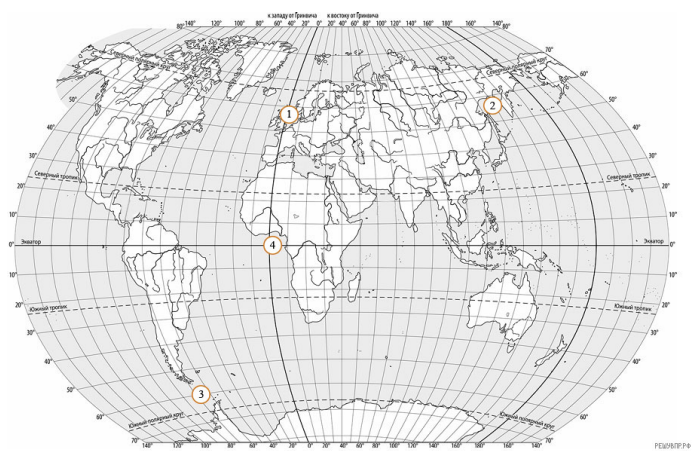
8. На карте цифрами обозначены объекты Мирового океана. Определите, какой цифрой обозначено Средиземное море.



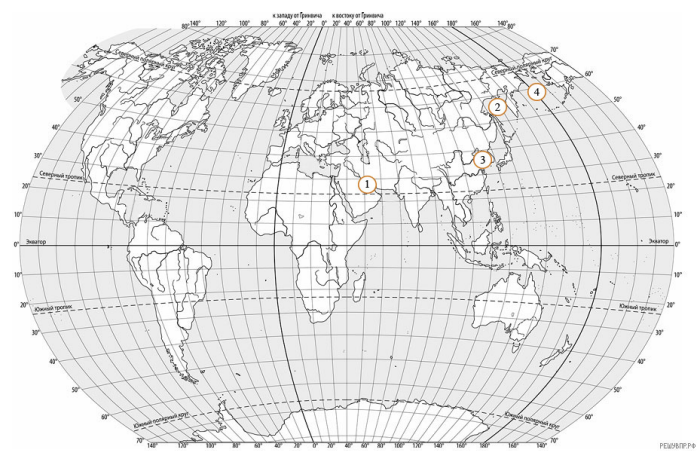
9. На карте цифрами обозначены моря. Определите, какой цифрой обозначено Тасманово море.



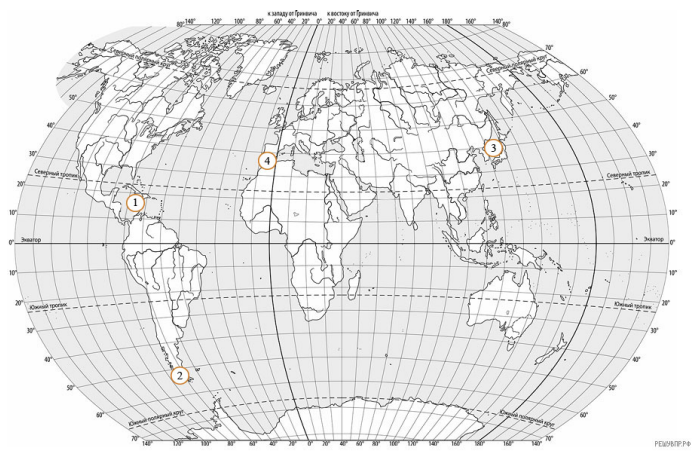
10. На карте цифрами обозначены моря. Определите, какой цифрой обозначено Аравийское море.



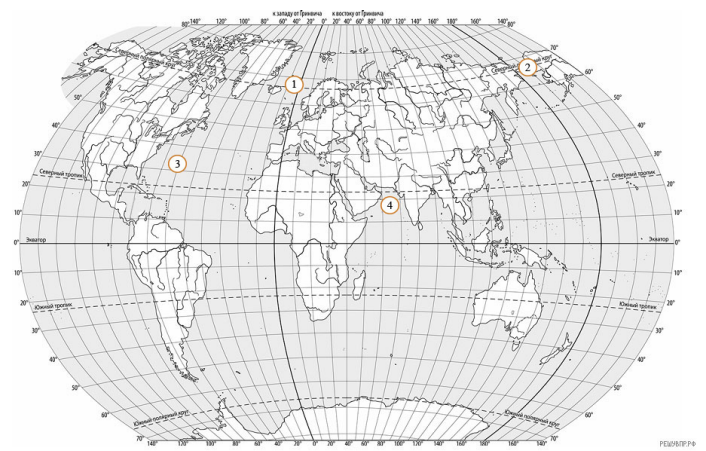
11. Мировой океан занимает около 70% поверхности Земли. Определите, какой цифрой на карте обозначен пролив Дрейка.



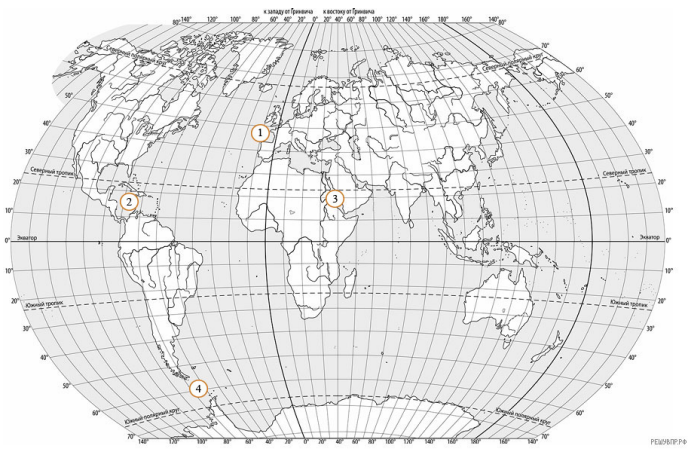
12. Мировой океан занимает около 70% поверхности Земли. Определите, какой цифрой на карте обозначен Персидский залив.



13. Мировой океан занимает около 70% поверхности Земли. Определите, какой цифрой на карте обозначено Карибское море.



14. Мировой океан занимает около 70% поверхности Земли. Определите, какой цифрой на карте обозначен Берингов пролив.



15. Мировой океан занимает около 70% поверхности Земли. Определите, какой цифрой на карте обозначен Бискайский залив.